

7 ある数に4をたして5をかけるところをまちがえて、5をたして4をかけてしまったため、答えが1620になってしまいました。
(各10点)

(1) ある数を求めましょう。

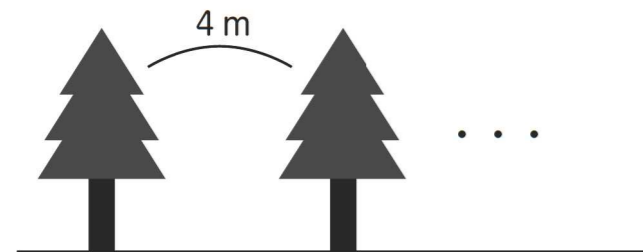
(2) 正しい答えを求めましょう。

8 ある週の月曜日と水曜日と金曜日の日にちの数をすべてたしたら24でした。
(10点) この週の月曜日は何日でしょう。

○月						
月	火	水	木	金	土	日

 日

9 長さ52mの歩道に4mずつ間をあけて木を植えます。両方のはしにも木を植えるとき木は何本いるでしょう。
(10点)


 本

連絡事項

- ・おつかれ様でした。記入したこの用紙は、チラシまたはホームページに記載している提出方法にしたがって、提出してください。
- ・2月上旬頃に採点されたこの用紙は、本巢市立の小学生は学校の先生から渡され、その他の参加者については郵送されます。



算数・数学甲子園
ホームページ

第4回
算数・数学
甲子園2021
4ジュニア

注意事項



- ・45分を目安に問題を解きましょう。
- ・計算やメモ書きは問題用紙やノート、紙などに記入してもいいです。
- ・問題を解くときに使用できる道具は定規のみです。
- ・まずは自分一人の力で解きましょう。わからない問題は家の人と一緒に考えましょう。
- ・解き終わったら、裏面の連絡事項を確認し、この用紙を提出してください。

学校名	小学校	ふりがな	
学年・組	年 組 番	名前	

※本巢市立の小中学生以外は、結果をお知らせする際に住所と電話番号が必要となります。必ずご記入ください。

住所	〒 -	電話番号	
----	-----	------	--

※個人情報は、本事業のみに使用いたします。

1 □に入る数字は何でしょう。

(10点)

$$\begin{array}{r}
 3\boxed{} \\
 \times \boxed{} \\
 \hline
 333
 \end{array}$$

2 たて、よこ、ななめに並ぶ3マスの数の合計がすべて51になるように表を完成させましょう。

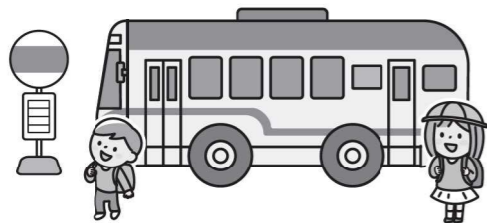
(10点)

14		24
	17	

3 バスにお客さんが5人乗っています。1つ目のバス停で6人乗って、4人おりました。2つ目のバス停で11人乗って2人おりました。

(10点)

今バスに乗っている人は何人いるでしょう。(運転手はのぞきます。)



4 みかん、富有柿、バナナ、りんごの4つのくだものがあります。

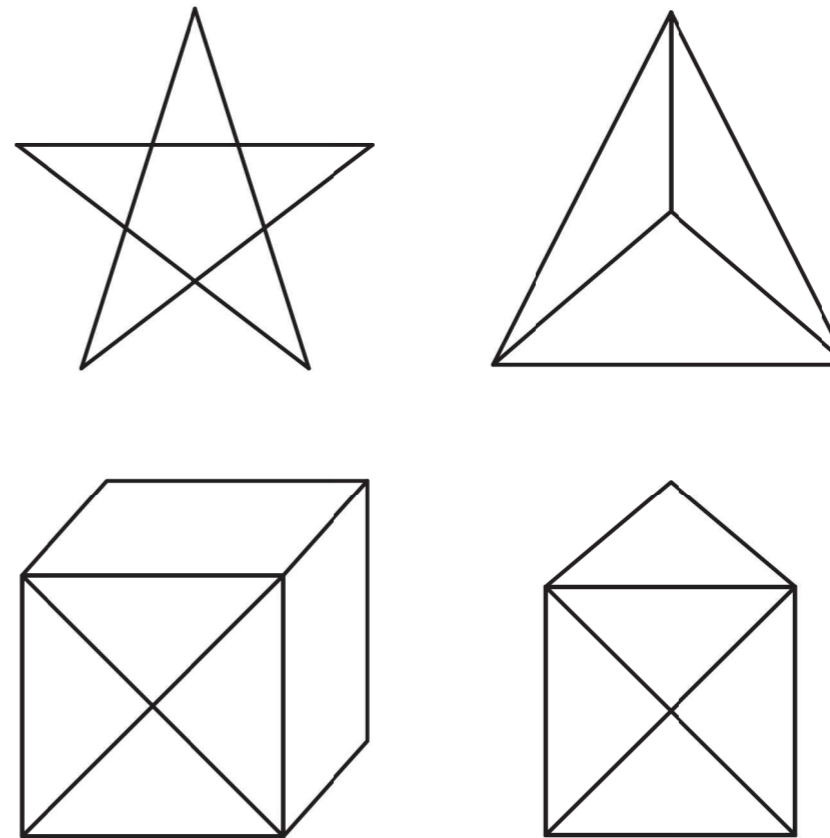
(10点)

みかんはバナナより15g軽いです。
 バナナはりんごの半分の重さです。
 りんごは富有柿より30g重いです。
 富有柿は120gです。
 みかんの重さは何gでしょう。



5 ひとふでが一筆書きができないものを丸でかこみましょう。

(10点)



ひとふでが一筆書きの意味がわからない時は
 おうちの人に聞いてね。



6 図形のまわりの長さを求めましょう。どちらの図形も正方形です。

(10点)

