

第19回 本巣市 算数・数学甲子園 2016 解答用紙

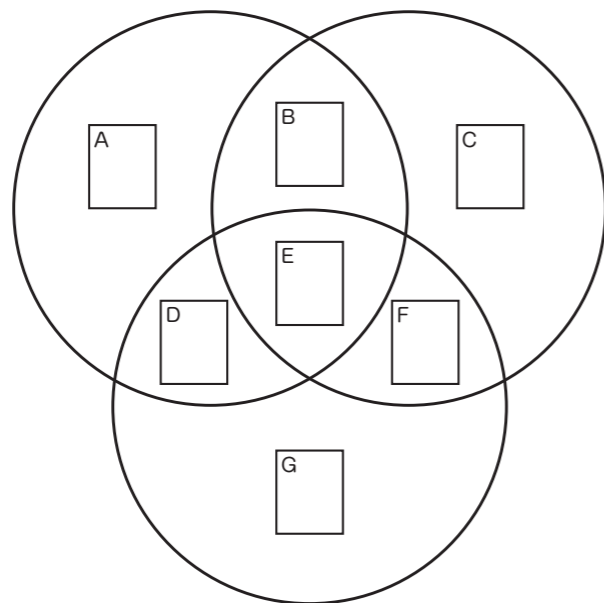
番号 小 中 一 _____ 学校名 _____ 小 中 学校 _____ 学年 _____ 年 _____ 氏名 _____

※ 小 中 のどちらかに○をつけましょう。

小学生問題 小学生のみなさんが解く問題です。.....

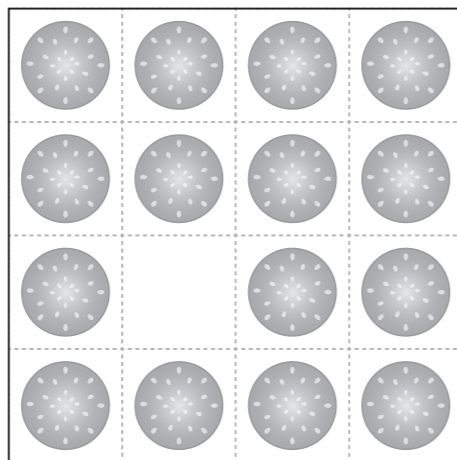
1

(10点)



2

(10点)



3

(10点)

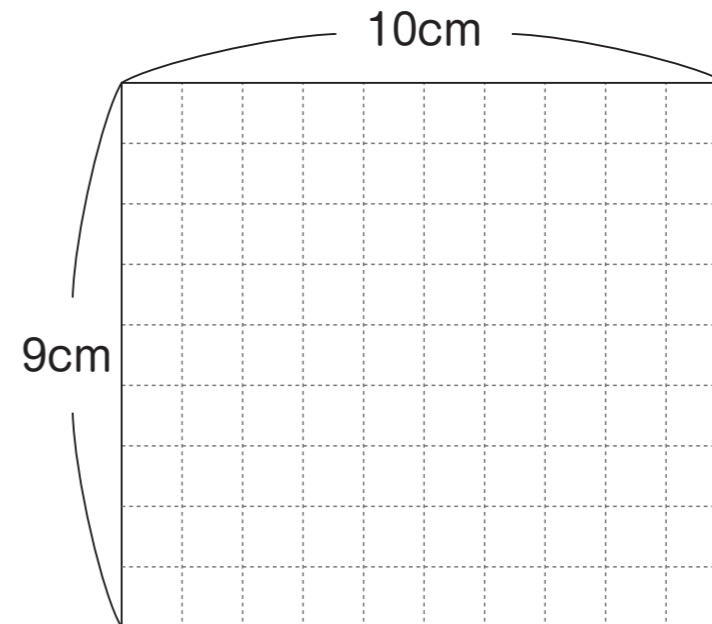
(どちらも正解で)

大きい窓ガラス まい

小さい窓ガラス まい


4

(10点)



5

(10点)



小・中共通問題 小学生と中学生のみなさんが解く問題です。.....

6

(10点)

$$\begin{array}{r}
 1 \square \square \square \\
 \times 92 \square \square \\
 \hline
 \square 0 \square \square \\
 \square \square \square 1 \square \\
 23 \square 6 \\
 \square \square \square 12 \\
 \hline
 \square \square \square \square \square \square 28
 \end{array}$$

7

(10点)

8

(10点)

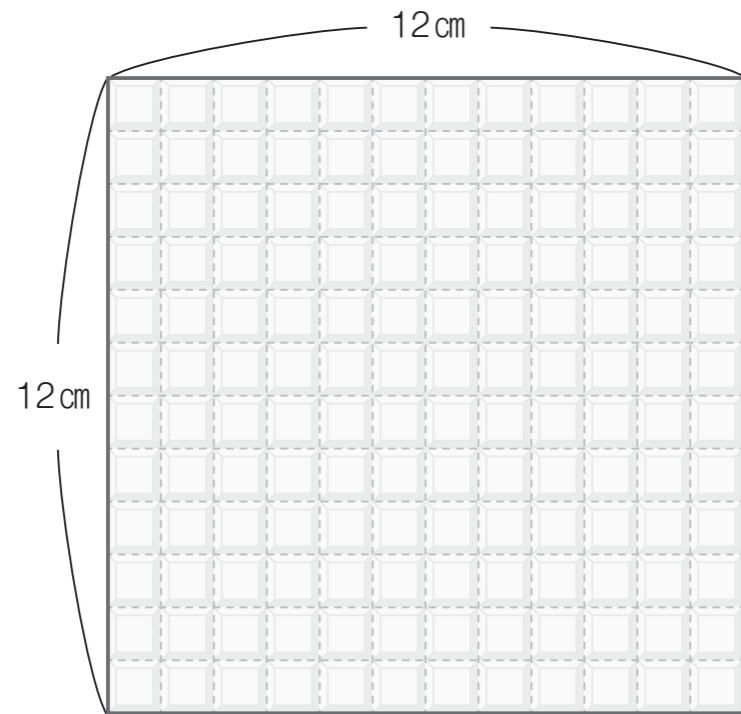
9

(10点)



10

(10点)



12

(10点)

13

(10点)

(すべて正解で)

1回目

2回目

3回目

4回目

5回目

14

(10点)

15

(10点)

中学生問題

中学生のみなさんが解く問題です。.....

11

(10点)

チャレンジ問題

時間によゆうのある人は解いてみましょう。得点には関係ありません。.....